

Exercices triangles et quadrilatères 6ème pdf

Exercices triangles et quadrilatères 6ème pdf


Rating: 4.9 / 5 (3132 votes)


Downloads: 18780


CLICK HERE TO DOWNLOAD>>><https://tds11111.com/7M89Mc?keyword=exercices+triangles+et+quadrilatères+6ème+pdf>

Quelle est la nature des triangles ABC et GHI? Du quadrilatère JKLM? A,E et D aussi CHAPITRE TRIANGLES ET QUADRILATÈRES Objectifs: Triangles [S] Connaître et utiliser le bon vocabulaire sur les polygones (sommets, côtés consécutifs, côtés opposés, diagonales) [S] Connaître les différents triangles (rectangle, isocèle, équilatéral) et le vocabulaire associé NOM et Prénomème Le but de ce livret est d'étudier certaines configurations géométriques «fermées», en particulier les configurations à droites (les triangles) et les configurations à droites (les quadrilatères) b. Quelle est la nature des Exercices corrigés sur les triangles particuliers et leurs axes de symétrie Exercice Quelle est la nature de chaque triangle: Exercice Ci-dessous, les points A,C,B sont CHAPITRE TRIANGLES ET QUADRILATÈRES Objectifs: Triangles [S] Connaître et utiliser le bon vocabulaire sur les polygones (sommets, côtés consécutifs, NOM et Prénomème Le but de ce livret est d'étudier certaines configurations géométriques «fermées», en particulier les configurations à Triangle et quadrilatère en 6ème. EXERCICE/8 points a. Mathématiques c'est fiches de cours et d'exercices téléchargées CLASSEÈME CONTROLE sur le chapitre: TRIANGLES ET QUADRILATERES La calculatrice n'est pas autorisée. Justifie. EXERCICE/3 points Exercices corrigés sur les triangles particuliers et leurs axes de symétrie Exercice Quelle est la nature de chaque triangle: Exercice Ci-dessous, les points A,C,B sont alignés, les points. CLASSEÈME CONTROLE sur le chapitre: TRIANGLES ET QUADRILATERES La calculatrice n'est pas autorisée. EXERCICE/8 points a. Reproduis ces quatre figures en vraie grandeur sur ta copie. Ces exercices sont extraits du site où ils sont interactifs (écriture avec un stylet possible), corrigés Télécharger ou imprimer cette fiche «triangles et quadrilatères: exercices de maths en 6ème corrigés en PDF.» au format PDF afin de pouvoir travailler en totale autonomie.

 Difficulté **Difficile**

 Durée **410 jour(s)**

 Catégories **Art, Énergie, Bien-être & Santé, Sport & Extérieur, Science & Biologie**

 Coût **907 EUR (€)**

Sommaire

Étape 1 -

Matériaux

Outils

Étape 1 -
