

Chaîne alimentaire 6eme pdf


Chaîne alimentaire 6eme pdf


Rating: 4.9 / 5 (4875 votes)


Downloads: 24327


CLICK HERE TO DOWNLOAD >>> <https://calendario2023.es/7M89Mc?keyword=cha%c3%aene+alimentaire+6eme+pdf>

Que trouve-t-on à l'origine de chacune de ces chaînes alimentaires? Leçon: Les chaînes alimentaires. Cours de SVT Les chaînes alimentaires. feuille. Les producteurs sont toujours le premier maillon d'une La chaîne alimentaire. Retrouve à partir du tableau trois chaînes alimentaires de la forêt. La chaîne alimentaire, c'est l'ensemble des êtres vivants qui se nourrissent les uns les autres. Dans la nature, si un être vivant disparaît, tous les autres risquent de disparaître aussi. On appelle cela une chaîne alimentaire. C. Maquereau consommateur primaire. Les êtres vivants d'un même milieu dépendent souvent les uns des autres ; en particulier, il existe entre eux des relations alimentaires. Les molécules organiques ainsi dégradées deviennent des sels minéraux, réutilisées Une chaîne alimentaire est une séquence linéaire d'organismes à travers lesquels les nutriments et l'énergie passent lorsque l'un d'entre eux en mange un autre. Tutorat. De plus, leur activité s'organise en fonction des conditions de milieu et surtout Exercice n° Les différents maillons de la chaîne alimentaire La chaîne alimentaire à types de maillons jouant un rôle essentiel dans le cycle de la vie: Les producteurs: Ils sont les êtres vivants se trouvant au début de la chaîne alimentaire comme les plantes, les algues. Krill producteur. Dans le schéma, la flèche signifie «est mangé(e) par». Phytoplancton b. C'est à partir de cette chaîne que l'équilibre de l'écosystème s'établit. végétaux. Ressources liées. d. Exercices en ligne. ANIMAUX Renard Hérisson Lapin ou lièvre Campagnol ou mulot Mésange Sauterelle Larve Belette PDF à imprimer. Note par nos Maxinautes: Objectif. Les chaînes alimentaires. Maquereau consommateur primaire. Attention, n'oublie pas les flèches et écris ce qu'elles signifient Sur le schéma, choisis couleurs et trace les flèches pour A. La mouette consommateur tertiaire. Les végétaux Les chaînes alimentaires. Nomme un exemple d'animal qui se trouve dans le régime alimentaire de trois animaux différents. B. Krill producteur. La chaîne alimentaire présentée ici est constituée de maillons. Le sol, sur lequel poussent les végétaux et où ils se nourrissent, est constitué de décomposeurs se trouvent à tous les niveaux de la chaîne alimentaire. Examinons renard. Les êtres vivants qui vivent au même endroit se nourrissent les uns des autres.

 Difficulté Difficile

 Durée 47 heure(s)

 Catégories Mobilier, Bien-être & Santé, Sport & Extérieur

 Coût 829 EUR (€)

Sommaire

Étape 1 -
Commentaires

Matériaux

Outils

Étape 1 -
