

Arithmetisches mittel aufgaben mit lösungen pdf

Arithmetisches mittel aufgaben mit lösungen pdf


Rating: 4.6 / 5 (3966 votes)


Downloads: 91883

CLICK HERE TO DOWNLOAD>>><https://pedirif.hkjhsuies.com.es/qz7Brp?keyword=arithmetisches+mittel+aufgaben+mit+l%3%b6sungen+pdf>


berechne das arithmetische mittel und die summe der zahlen bilden. aufgaben direkt im browser bearbeiten und lösen, inkl. * ehemalige klausuraufgabe, maturatermin: 16. die standardabweichung wird über die wurzel der mittleren quadratischen abweichung vom mittelwert über $\sqrt{23}$ berechnet. hier findest du statistik aufgaben zum mittelwert, median, quartilsabstand, boxplot, stängelblattdiagramm, klassierte häufigkeitstabelle. aufgabenstellung: berechnen sie, wie viele punkte die als außerordentlich geführte schülerin bei diesem test erreicht hat! wir werden einige aufgaben und übungen zur veranschaulichung anführen und schritt für schritt lösungen geben. die summe durch die anzahl der zahlen teilen. we would like to show you a description here but the site won't allow us. aufgaben lösungen plus a) erstelle ein balkendiagramm der monatslöhne. $a \div 4 = 36 \div 4 = 9$ $b \div 5 = 150 \div 5 = 30$ 3 fünf freunde vergleichen ihre punktzahl bei der mathematikarbeit. lerne kostenlos mathe, kunst, informatik, wirtschaft, physik, chemie, biologie, medizin, finanzwesen, geschichte und vieles mehr. was ist das medianarithmetische mittel? mathe aufgaben und online arithmetisches mittel aufgaben mit lösungen pdf übungen zum thema arithmetisches mittel. in der mathematik ist das arithmetische mittel einer reihe von reellen zahlen die summe der werte geteilt durch die anzahl der werte. was ist das arithmetische mittel? definiere die statistischen kenngrößen mittelwert, median (zentralwert), modalwert, minimum, maximum, spannweite. aufgaben zu mittelwert und median ii. 2 berechne das arithmetische mittel der zahlen. was ist das arithmetische mittel von c und d? wenn wir zum beispiel die durchschnittsnote der schüler in einer klasse wissen wollen, addieren wir zunächst die noten aller schüler in der klasse und teilen sie dann durch. anton und arithmetisches mittel aufgaben mit lösungen pdf michi haben beim schießen mit pfeil und bogen auf eine scheibe folgende werte erzielt: antonmichi. 4, 42 13 1m mittel haben die temperaturen also einen abstand von 4, 420 zum. die zahlen der größe nach ordnen. das arithmetische mittel ist eine mathematische formel, die dazu verwendet wird, die mittlere zahl einer gruppe von zahlen zu bestimmen. arithmetisches mittel: $60 \div 3 = 20$ das arithmetische mittel beträgt 20 €. d) stelle eine rangliste auf. $\approx v y, w$ km b) arithmetisches mittel: $-0, -$. bei ungerader anzahl von zahlen: die zahl in der mitte ist der median. der median liegt bei 22, 50, das arithmetische mittel errechnet sich über $170 = 160$ entspricht. at: für lehrkräfte & schülerinnen digitale produkte jetzt entdecken! arithmetisches mittel einfach erklärt aufgaben mit lösungen zusammenfassung als pdf jetzt kostenlos dieses thema lernen! khan academy ist eine non-profit organisation mit dem zweck eine kostenlose, weltweite ausbildung. bei gerader anzahl von zahlen: den median als mittelwert der beiden mittleren zahlen berechnen. aufgaben mit lösungen arithmetisches mittel klasse 6. in diesem artikel erklären wir, wie man das medianarithmetische mittel in klasse 6 berechnet. welcher der werte steht in deiner liste genau in der mitte? üben - mittelwerte arbeitsblatt auf oebv. c) zeichne den durchschnittslohn als

durchgezogene linie in das diagramm ein. das arithmetische mittel der von den nicht als außerordentlich geführten schülerinnen und schülern erreichten punkte beträgt 12, 5. erklärung mittelwert klasse 5: der mittelwert ist eine mathematische formel, die verwendet wird, um die durchschnittszahl aus einer liste von zahlen zu bestimmen. einföhrung in die statistik: arithmetisches mittel, median und modalwert (modus) ein problem melden. g) berechne für jede person den. musterlösung, erklär- videos und hilfstellungen. aufgabenblatt zum median - lösungen. bestimme das arithmetische mittel und den median der angegebenen werte: a) 40 km; 25 km; 13 km; 78 km; 55 km; 180 km b) - 0, 3; 18; 7; 7; 25; - 61; 47 2. das arithmetische mittel (durchschnitt) der fünf zahlen a, b, c, d, e ist 95 und das arithmetische mittel von a, b, e ist 100. aufgaben mit lösungen median arithmetisches mittel klasse 6. aufgaben zum arithmetischen mittel. durchschnittskörpergrößen in österreich und seinen nachbarstaaten (gerundet, in cm) ordne die körpergrößen der größe nach! e) berechne den median. b) berechne den durchschnittslohn. 2 aus einer urne mit 5 weißen, 3 schwarzen und 2 grauen kugeln wurde mehrmals ein e kugel mit zurücklegen gezogen. öffnen - lösungen - mittelwert klasse 5 pdf. lebenserwartung in österreich und seinen nachbarstaaten (gerundet, in jahren) : ordne die lebenserwartungen der größe nach! für den mittelwert: 1. arithmetisches mittel. ergänze die häufigkeitstabelle und zeichne anschließend ein st reifendia- gramm. lösungen - arithmetisches mittel klasse 6 - öffnen pdf. $\approx x w, t$ km median: $40km+ 55km$ 2. es ist auch als durchschnitt, mittelwert, arithmetisches mittel oder zentralwert bekannt. aufgaben mit lösungen mittelwert klasse 5. bestimme das arithmetische mittel und den median der angegebenen werte: a) arithmetisches mittel: $40km+ 25km+ 13km+ 78km+ 55km+ 180km$ 6. für den median: 1. interaktive aufgaben und übungen mit lösungen und erklärungen zum thema ' arithmetisches mittel'. f) wie viele menschen verdienen mehr/ weniger als den durchschnittslohn?

 Difficulté **Moyen**

 Durée **84 heure(s)**

 Catégories **Vêtement & Accessoire, Mobilier, Maison**

 Coût **232 EUR (€)**

Sommaire

Étape 1 -

Commentaires

Matériaux

Outils

Étape 1 -